

Број поена

ШИФРА _____

КОМИСИЈА _____

ТЕСТ ЗНАЊА

ЗА VIII РАЗРЕД ОСНОВНЕ ШКОЛЕ

ИСТОРИЈА

ОКРУЖНО/ГРАДСКО ТАКМИЧЕЊЕ
2014. ГОДИНЕ

УПУТСТВО ЗА РАД

1. Свако питање пажљиво прочитај да би га потпуно разумео.
2. Ако неко питање не можеш одмах да решиш, не губи време већ пређи на следеће, а касније се врати решавању прескоченог питања.
3. Потруди се да на свако питање одговориш тачно и потпуно.
4. Питања ради самостално и не ометај друге ученике.
5. Тест садржи петнаест питања.
6. Израда теста траје 60 минута.

Тест обавезно попуни хемијском оловком, јер се у противном одговори неће признати!

ОСМИ РАЗРЕД-ОКРУЖНО ТАКМИЧЕЊЕ 2014.

1. Допуни реченицу тако да наведени исказ буде тачан.

Краљ Александар Карађорђевић убијен је у _____ (име града) 1934.године. Пошто је _____ престолонаследник _____ (име) био малолетан формирано је _____ (орган власти) на челу са _____. (титула и име).

2. Уписујући на линији бројеве од 1 до 5 хронолошки поређај догађаје (1 за најстарији):

- _____ Црна Гора постала краљевина
- _____ Уведено обавезно основно образовање у Србији
- _____ Велеиздајнички процес против Срба у Загребу
- _____ 14 тачака Вудро Вилсона
- _____ Брусиловљева офанзива

3. Пажљиво прочитај историјски извор и одговори на питања:

„...Пошто Српска Краљевска Влада није дала повољан одговор на ноту коју јој је предаопосланик у Београду 23. јула 1914, Царска Краљевска влада је принуђена да се сама побрине за заштиту својих права и интереса и да у овоме циљу прибегне сили оружја.... сматра, дакле, од овог тренутка у рату са Србијом.“

- а) Која држава је упутила овакав телеграм Србији? _____
- б) Када се то догодило (датум и година) ? _____
- в) Ко је тада био краљ Србије ? _____

4. Наведени догађаји се односе на Други светски рат у Југославији.

Одговори на питања:

- а) Које све територије је обухватала НДХ ? _____
- б) Када је Краљевина Југославија потписала капитулацију (датум и година) ? _____
- в) Где су извршена најмасовније стрељање цивила 1941.године ? _____

5. Заокружи Т ако је тврдња тачна а Н ако је нетачна .

- а) Друго заседање АВНОЈ-а одржано је у Јајцу 1943.године. Т Н
- б) Првом армијом у Церској бици командовао је Степа Степановић. Т Н
- в) Београд је ослобођен 20.октобра 1944.године. Т Н
- г) Краљевина СХС подељена је на 33 области 1922.године. Т Н
- д) Демонстрације против Конкордата одржане су 1938.године. Т Н

6. Поред имена ратних операција упиши годину:

- а) битка код Курска- _____
- б) Стаљинградска битка - _____
- в) битка за Британију - _____
- г) напад на Пољску - _____


7. Поред догађаја упиши годину.

- а) створена бановина Хрватска- _____
- б) Милан Стојадиновић постаје председник владе- _____
- в) Југославија приступа Тројном пакту- _____
- г) донет Видовдански устав- _____

8. Допуни реченицу тако да наведени исказ буде тачан.

Савезничко искрцавање на Нормандију познатије и као операција _____ догодило се _____ (датум и година). Операцијом је командовао амерички генерал _____ (презиме).

9. Пажљиво погледај слику и одговори на питања:



а) Који историјски догађај је приказан на слици ?

б) Које године се догодио ?

10. Пажљиво прочитај историјски извор и одговори на питања:


„...Војни пуч у Југославији изменио је политичку ситуацију на Балкану. Југославију треба сматрати непријатељем и у случају да ускоро да изјаву лојалности, па је стога треба разбити што је могуће пре. Моја намера је да концентричном операцијом са простора Ријека – Грац, с једне стране, и са простора око Софије, с друге стране, упаднем у Југославију општим правцем према Београду и да њену војску уништим...“

а) Ко је потписао овај документ из кога је одломак (име и презиме) ? _____

б) Који је назив документа ? _____

в) Када се догодио војни пуч који се спомиње у тексту (датум и година) ? _____

11. Одговори на питања:



а) Ко је личност са фотографије ? _____

б) Коју покрет је предводио за време Другог светског рата ? _____

в) Која политичка партија је организовала тај покрет ? _____

12. Наведени догађаји се односе на Други светски рат.

Одговори на питања:

а) Где је одржан последња конференција „велике тројице“ ? _____

б) Ко је командовао немачким трупама у Северној Африци? _____

в) Када је почео Други светски рат (датум и година)? _____

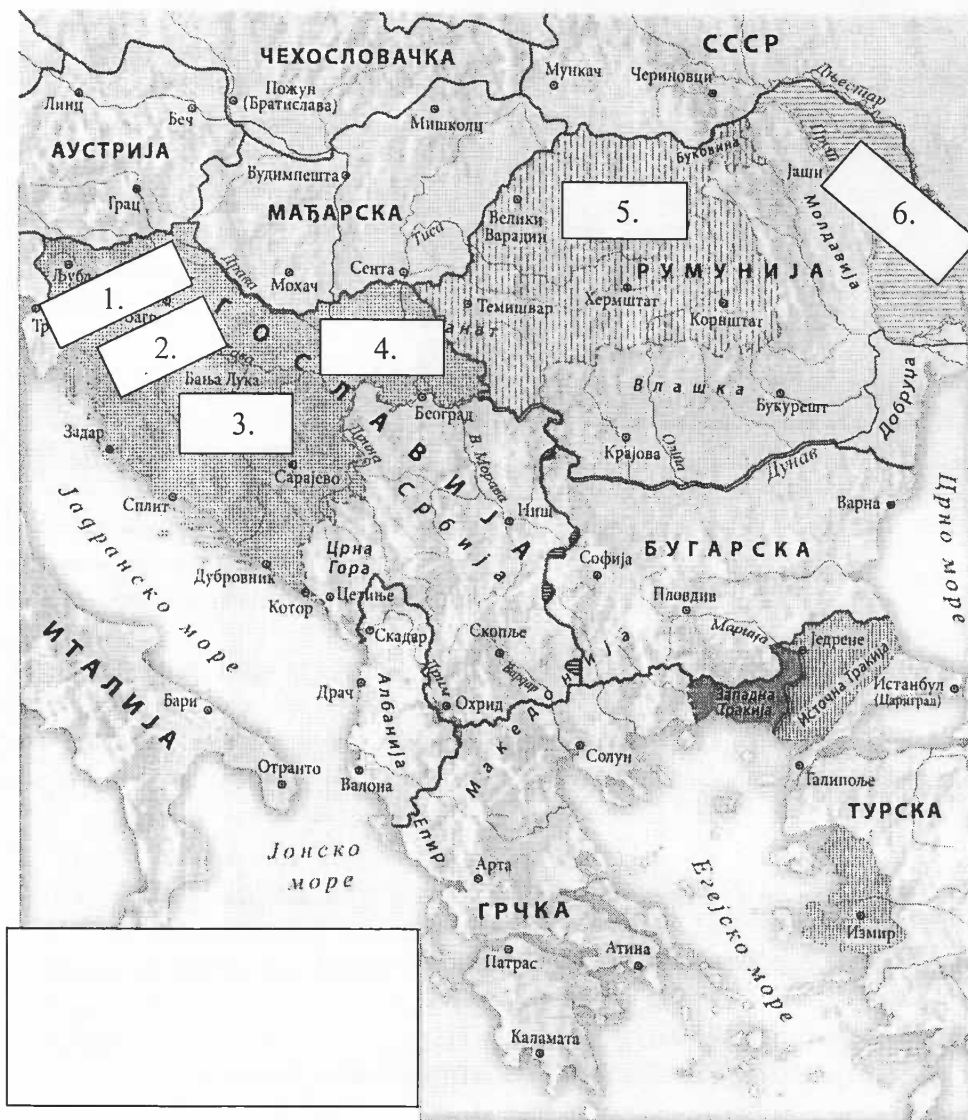
13. Одговори на питања:

- а) Које године је основана Организација Уједињених нација ? _____
 б) Које године је мисија „Аполо 11“ слетела на Месец ? _____
 в) Које године је Гагарин полетео у космос ? _____

14. Пажљиво погледај историјску карту Балкана после Првог светског рата.

Територије на карти су обележене редним бројевима. Поред редног броја на линијама напиши називе територија које су припојене Краљевини СХС и Краљевини Румунији.

- 1) _____ 2) _____
 3) _____ 4) _____
 5) _____ 6) _____



15. Попуни табелу са називима фронта и ратовима којима наведене битке припадају.

| Битке | Фронтови | Рат |
|----------------------|----------|-----|
| Колубарска битка | | |
| Стаљинградска битка | | |
| Кајмакчаланска битка | | |
| Верден | | |

РЕШЕЊА – ОСМИ РАЗРЕД – ОКРУЖНО 2014.

1. Одговор: Марсељу , Петар II , намесништво, кнезом Павлом.(1/0) 1
2. Одговор: 3, 1, 2, 5, 4 (3/0) 3
3. Одговор: а) Аусто Угарска (1), б) 28.7.1914 (1),
в) Петар I Карађорђевић (1)..... 3
4. Одговор: а) Хрватска, БиХ, Срем (1), б) 17.04.1941. (1),
в) Краљево, Крагујевац (1/0)3
5. Одговор: Т, Н , Т, Т, Н (1+1+1+1+1) 5
6. Одговор: а) 1943 (1), б) 1942/43(1) в) 1940 (1) г) 1939 (1) 4
7. Одговор: а) 1939 (1), б) 1935 (1)
в) 1941 (1), г) 1921 (1)4
8. Одговор: Оверлорд, 6.6.1944. , Ајзенхауера (1/0), 1
9. Одговор: а) Нирнбершки процес (суђење) (1)
б) 1945/46 (1)2
10. Одговор а) Адолф Хитлер (1), б) Директива 25 (1),
в) 27.03.1941.(1)..... 3
11. Одговор: а) Јосип Броз Тито (1),
б) партизански покрет (НОВ) (1),
в) Комунистичка партија Југославије (1)..... 3
12. Одговор: а) Потсдам(1), б) Ромел (1) в) 1.09.1939. (1), 3
13. Одговор: а) 1945 (1)
б) 1969 (1)
в) 1961 (1) 3
14. Одговор: 1) Словенија, 2) Хрватска, 3) БиХ 4) Војводина
5) Трансилванија б) Бесарабија (2/0) 2

15. Одговори:

| Битке | Фронтови | Рат | бодовање |
|------------------|-----------|---------------|----------|
| Колубарска битка | Балкански | Први светски | (1/0) |
| Стаљинградска | Источни | Други светски | (1/0) |
| Кајмакчаланска | Солунски | Први светски | (1/0) |
| Верден | Западни | Први светски | (1/0) |

УКУПАН БРОЈ ПОЕНА44

Прво место 44-43

Друго место 42-41

Треће место 40-39

НА ДРЖАВНО ТАКМИЧЕЊЕ У КРУПЊУ ПЛАСИРАЛИ СУ СЕ УЧЕНИЦИ КОЈИ ИМАЈУ 39
И ВИШЕ ПОЕНА